

# 2016 年江苏公务员考试《行测》真题 C 类

(网友回忆版)

公考通网校

[www.chinaexam.org](http://www.chinaexam.org)



公考通 APP



微信公众平台

## 一、常识判断

根据题目要求，在四个选项中选出一个最恰当的答案。

1. 党的十八届五中全会通过了《中共中央关于国民经济与社会发展第十三个五年规划的建议》，下列关于该建议的表述正确的是（ ）
  - A. 《“十三五”规划建议》是针对“两个一百年”奋斗目标收官阶段提出的战略蓝图
  - B. 《“十三五”规划建议》充分论述了继续坚持我国改革开放以来发展方式的必要性
  - C. 《“十三五”规划建议》针对社会主要矛盾的新变化提出了经济发展的新方针
  - D. 《“十三五”规划建议》提出并阐释了我国经济社会发展的“五大发展理念”
2. 2016年一号文件聚焦加快农业现代化，对此，下列理解正确的是（ ）
  - A. 一号文件将促进农业的规模经营，提升农业在产业结构中的比重
  - B. 一号文件将激发农业的科技创新，以服务业带动农业现代化的发展
  - C. 一号文件将推动农村的产业融合，促进农民收入的持续较快增长
  - D. 一号文件将带动农村基础设施建设，依靠社会资本加快新农村建设
3. 习近平总书记在中央政治局第二十次集体学习时强调，要增强问题意识，坚持问题导向。这体现的哲学原理是（ ）
  - A. 矛盾具有普遍性和客观性，矛盾是事物发展的源泉和动力
  - B. 联系具有普遍性和多样性，任何事物都处在普遍联系之中
  - C. 真理具有绝对性和相对性，绝对真理包含在相对真理之中
  - D. 认识具有反复性和无限性，认识是一个辩证运动的过程
4. 鲁迅先生曾说，贾府里的焦大是不会爱上林妹妹的，这句话蕴含的哲学意义是（ ）
  - A. 社会存在决定社会意识
  - B. 经济基础决定上层建筑
  - C. 社会意识具有主观能动性
  - D. 社会意识对社会存在具有反作用
5. 下列诗句与其描写的传统节日对应不正确的是（ ）
  - A. 总把新桃换旧符——清明节
  - B. 遍插茱萸少一人——重阳节
  - C. 蓦然回首，那人却在，灯火阑珊处——元宵节
  - D. 两情若是久长时，又岂在朝朝暮暮——七夕节
6. 为了适应全球科技创新发展的趋势，我国制定了《中国制造 2025》的行动纲领，下列对《中国制造 2025》理解错误的是（ ）

- A. 全球制造业格局面临重大调整是制定《中国制造 2025》的重要背景
- B. 《中国制造 2025》的覆盖范围包括国民经济门类中的所有产业
- C. 制定《中国制造 2025》是为了通过“三步走”实现制造强国的战略目标
- D. 《中国制造 2025》与美国工业物联网、德国的工业 4.0 都强调生产效率
7. 在需求和供给自由作用的市场条件下，能够有效缓解天然气供给短缺的方法是（ ）
- A. 提高天然气的市场销售价格
- B. 劝告人们尽可能的节约用气
- C. 限制居民家庭每月用气量
- D. 在特定的时段实施天然气供给
8. 供给侧结构性改革强调从供给、生产端入手，不断解放生产力，提高效率，促进经济发展。下列属于供给侧结构性改革举措的是（ ）
- A. 物价部门开展市场价格检查
- B. 商业银行上浮企业贷款利率
- C. 发改委取消部分行政审批事项
- D. 工商部门限制明星代言广告
9. 中国人民在抗日战争中取得了一系列重大胜利。下列不属于抗日战争中取得的成就是（ ）
- A. 平型关大捷
- B. 昆仑关大捷
- C. 镇南关大捷
- D. 台儿庄大捷
10. 2016 年我国各地按照“双百方针”积极整理民族传统文化，通过收集、整理、编演拯救了一批剧种，其中被周恩来总理评价为“一出戏救活了一个剧种”的是（ ）
- A. 昆曲《十五贯》
- B. 黄梅戏《天仙配》
- C. 豫剧《穆桂英挂帅》
- D. 越剧《柳毅传书》
11. 高铁列车的车窗和车门在运行过程中必须完全密闭。对此，下列解释最准确的是（ ）
- A. 减少高铁列车运行的能源消耗
- B. 保持高铁列车车厢内部的安静
- C. 避免车速过快形成空气压强差
- D. 确保高铁列车车厢内部的整洁

12. 下列对日常现象解释正确的是（ ）
- A. 自行车在夏天暴晒后容易爆胎，是因为橡胶放在高温下变软了
  - B. 夏天从冰箱里取出的冷饮瓶表面有小水滴，是因为冰箱湿度大于室内
  - C. 赤脚站在瓷砖上比站在棉被上凉爽，是因为瓷砖温度比棉被的温度低
  - D. 热水瓶的内胆镀银是为了减少热辐射
13. 国际性河流是指流经两个以上国家和地区的河流，往往成为国际贸易、区域合作的重要通道。下列发源或流经我国的国际性河流中，流经国家最多的是（ ）
- A. 黑龙江
  - B. 澜沧江
  - C. 图们江
  - D. 雅鲁藏布江
14. 下列关于我国少数民族的名称、特色饮食与代表性文化对应错误的是（ ）
- A. 傣族—傣—孔雀舞
  - B. 蒙古族—手抓羊肉—蒙古长调
  - C. 朝鲜族—泡菜—《阿里郎》民谣
  - D. 藏族—酥油茶—《格萨尔王》长诗
15. 下列对司法术语的说明错误的是（ ）
- A. 案结事了——司法解决的根本性
  - B. 有告必理——司法解决的普遍性
  - C. 不告不理——司法活动的被动性
  - D. 一事不再理——司法程序的终结性
16. 某村是所在乡的人口第一大村，村民委员会经民主选举成立后通过了一系列事项。下列事项符合法律规定的是（ ）
- A. 村委会采取主任负责制
  - B. 村里财务每两年公布一次
  - C. 村委会设置多个下属委员会
  - D. 村委会向村党支部负责并报告工作
17. 张某家的梧桐树枝生长到李某家的院中，落下的树叶和树絮给李某带来一定的烦恼。双方为此发生争执，本案涉及的法律关系是（ ）
- A. 人身关系
  - B. 债权债务关系

- C. 相邻关系
- D. 宅基地使用权关系

18~20. 暂缺

## 二、言语理解与表达

一、片段阅读。每道题包含一段文字，要求你从四个选项中选出最恰当的一项，你的选择必须与题干要求相符合。

21. 联产承包责任制释放了农村的经济生产活力，从其产业结构而言，联产承包责任制所释放的并不是自产自销，而是被纳入了现代产业体系，农村经济成为现代产业重要的一环，专营化、职业化、金融化成为其重要特征，“农民”于农村劳动力而言更多是一种产业身份而非社会身份，村落社会的农民集体逐渐变成了“非农”。

这段文字主要强调的是（ ）

- A. 联产承包责任制改变了农村劳动力的特征
- B. 联产承包责任制使农业步入了现代产业体系
- C. 联产承包责任制调整了农村生产关系
- D. 联产承包责任制创新了农业劳动方式

22. 一张照片的场景是这样的，夜幕降临，各种灯光开始勾勒出城市的轮廓，高低错落的楼宇林立，道路上车流的灯光划出流光溢彩的轨迹，如果时空真的能够穿越，让古人穿越到这里，他们一定不会对眼前的景色陌生。因为古人喜欢将楼阁依水依河而建，喜欢登楼观水。这道路不就是高楼峡谷中蜿蜒流淌的河流。

根据文意这张照片拍摄的角度是（ ）

- A. 仰视
- B. 俯视
- C. 平视
- D. 侧视

23. ①回顾人类法律发展史，我们也能看到法律发展过程在很大程度上是法官不断补充完善法律规则，填补法律漏洞的过程

②即使法律再完备也不能包罗万象，总是会给法官留下大量的解释空间

③法律只有借助法官的解释才能实现对社会生活的有效规范

④法典由法律语言构成，法律语言描述功能和信息载体功能十分有限，无法涵盖与描述全部的社会生活

⑤有的立法者希望通过立法本身的高度完善去消除法律解释活动的必要性，但事实证明是徒劳的

将以上 5 个句子重新排列，语序正确的是（ ）

- A. ②①⑤④③
- B. ①⑤④③②
- C. ①④⑤③②
- D. ②①③④⑤

24. 目前出现的一些智能快递柜，代表着未来中国快递业的发展方向——智能快递，即通过引入信息化、大数据等现代化手段，融合预测等方式，以更便捷的智能设施（如智能快递柜）和手段来满足高密度、高成本、高人力的现代快递工作，通过建设社区的“智能快递站”为消费者服务。

下列说法与文意不符的是（ ）

- A. 走智能快递之路，符合未来中国快递业的发展方向
- B. 建设社区的“智能快递站”能更便捷的为消费者服务
- C. 智能快递能有效满足“三高”状态的现代快递工作
- D. 智能快递柜的出现预示着快递服务费用更加低廉

25. 电影是否适合 3D 制作，主要取决于影片的内容，如果动作的变化较多，视觉要求高，拍成 3D 版便很好，比如《阿凡达》等，因为其视觉纵深的变化较多比较适合 3D 特效。但一些室内电影，包括很多文艺片、爱情片，还有一些动画片，就没有必要采用 3D 版本，而且如果勉强使用 3D 特效，反而会给观众带来不好的观影感受。

作者通过这段文字在说明（ ）

- A. 3D 影片制作成了吸金噱头
- B. 3D 影片制作可能弊大于利
- C. 3D 影片制作其实可有可无
- D. 3D 影片制作应当因片而异

26. 膳食指南本身不是科学研究，它是政府组织专家对过去几年中公开发表的涉及饮食与健康的科学文献进行的汇总与梳理，不同的文献研究的对象、方式和考察的健康指标不同，就可能得出不同的结论，指南的制定是把这些不同的研究进行统一的考察，然后根据证据的强弱作出“推荐”，这些推荐只是根据目前的证据所能作出的合理判断，而不是对该问题的盖棺定论。

下列说法与文意不符的是（ ）

- A. 膳食指南受到当下研究成果的制约
- B. 膳食指南根据科学研究的发展往往会产生变动
- C. 膳食指南所作的推荐其实不具有参考价值
- D. 不同的研究者有时对同一问题得出不同的结论

27. 提升公民科学素质是加快经济方式转变的迫切要求，一个国家的核心竞争力和强大后劲取决于包括科学素质在内的国民素质的不断提升，实施创新驱动发展战略，把经济增长方式转移为推动科技进步和提高劳动者素质上来，需要有数以亿计的高素质劳动者和数以万计的精工巧夺，没有公民科学素质的普遍提高，就难以建立起庞大的高素质劳动大军，难以将科学成果快速转化为现实的经济实力。

这段文字主要讨论的是（ ）

- A. 公民科学素质同样是核心竞争力
- B. 时代呼唤高素质的劳动大军
- C. 经济发展方式转变是当务之急
- D. 推动科技成果转化经济实力

28~35. 暂缺

二、文章阅读。阅读下面文章，回答问题。本题共有五道题，每道题提供四个选项，要求你从中选出最恰当的一项，你的选择必须与题干要求相符合。

36~40. 暂缺

三、选词填空。从题后所给的四个选项中选出最符合文意的一项。

41. 盯着名利干事，难免\_\_\_\_\_，欲速则不达；盯着责任干事，“不闻掌声”而\_\_\_\_\_，才能最终赢得掌声。

依次填入画横线处最恰当的一项是（ ）

- A. 斤斤计较 心无二用
- B. 急公好义 心怀大局
- C. 患得患失 心胸开阔
- D. 急功近利 心无旁骛

42. 今日数以亿计的进城务工农民的交往社会化已成一个重要事实。与这一事实相\_\_\_\_\_的是，中国农业生产正经历了一次深刻的变革，快速推进的城镇化大大降低了农业人口比重，人们的食物消费结构和农业生产结构的转型正在\_\_\_\_\_新型农业的产生。

依次填入画横线处最恰当的一项是（ ）

- A. 符合 激励
- B. 验证 敦促
- C. 印证 鼓励
- D. 契合 促使

43. 在成文法背景下，法官没有主动创造法律的\_\_\_\_\_，但在出现法律模糊、空白等情形时，法

官只能通过解释法律来发展和\_\_\_\_\_立法。

依次填入画横线处最恰当的一项是（ ）

- A. 责权 补充
- B. 权利 完成
- C. 权力 完善
- D. 授权 促成

44. 经典的魅力是多方面的，而其中有一点就在于，\_\_\_\_\_故事淡忘了，仍会有些东西留在你心间。这种留在心间的东西，就是\_\_\_\_\_的影响，就是熏陶。

依次填入画横线处最恰当的一项是（ ）

- A. 即使 潜移默化
- B. 假使 悄无声息
- C. 即便 耳濡目染
- D. 假如 润物无声

45. 建设 21 世纪海上丝绸之路，是为了\_\_\_\_\_古代海上丝绸之路特有的价值和理念，为其注入新的时代内涵，积极主动地发展与沿线国家的经济伙伴关系，对当前正在进行的各种各样的合作进行整合，使它们相互连接、相互促进，产生整体大于部分之和的\_\_\_\_\_。

依次填入画横线处最恰当的一项是（ ）

- A. 挖掘 效率
- B. 显现 结果
- C. 发掘 效应
- D. 发现 成果

46. 教育机会平等权问题，源自城市化。加强对我国教育机会平等权的保护，\_\_\_\_\_已不在上不上得起学的问题，而在于如何配置相对缺乏的教育资源，使其更加\_\_\_\_\_，从而克服城市化带来的弊病。

依次填入画横线处最恰当的一项是（ ）

- A. 重点 平均化
- B. 重心 平等化
- C. 本质 均衡化
- D. 关键 均等化

47. 大自然慷慨的\_\_\_\_\_，使人类得以繁衍生息，创造文明。人类理应顺应自然，但人类的历史，反倒常常是\_\_\_\_\_与辜负大自然美好情意的历史。



依次填入画横线处最恰当的一项是（ ）

- A. 赐予 轻慢
- B. 分享 挥霍
- C. 奉献 嘲弄
- D. 供给 忽略

48. 信息社会的显著\_\_\_\_\_是社会从有形的物质创造价值转向无形的信息创造价值，整个社会对于信息资源的依赖性加强，处于社会信息化进程中的个人也\_\_\_\_\_。

依次填入画横线处最恰当的一项是（ ）

- A. 特点 亦步亦趋
- B. 特征 无处遁形
- C. 标准 无一例外
- D. 标志 概莫能外

49. 金融实证研究基本上无法通过特定的实验来进行，这就决定了在研究方法上主要依靠现实数据收集和计量分析\_\_\_\_\_。因此，数据采集及其分析对于金融学研究的重要性\_\_\_\_\_。

依次填入画横线处最恰当的一项是（ ）

- A. 方式 毫无疑问
- B. 方法 不证自明
- C. 手段 不言而喻
- D. 做法 人所共知

50. 每个时代都有自己的流行语，网络热词则是互联网时代最普遍的副产品。与以往不同，网络热词的更替速度令人\_\_\_\_\_，“来得快，去得更快”成为网络热词的集体\_\_\_\_\_。

依次填入画横线处最恰当的一项是（ ）

- A. 目不暇接 宿愿
- B. 眼花缭乱 宿命
- C. 顾此失彼 结局
- D. 不堪重负 命运

51. 书法是中国艺术体系中最重要艺术形式之一。它以汉字为\_\_\_\_\_，通过具有特殊笔墨情韵的汉字形象的\_\_\_\_\_，表现艺术家的思想情感。

依次填入画横线处最恰当的一项是（ ）

- A. 代表 创新
- B. 载体 创造

C. 材料 表现

D. 工具 再现

52. 由于知识产权的保护客体主要是智力劳动成果，所以知识产权在保护金融创新方面具有的优越性，对金融创新产品的知识产权保护主要包括商标权、著作权、专利权以及商业秘密保护等方式的综合\_\_\_\_\_。

依次填入画横线处最恰当的一项是（ ）

A. 天生 采用

B. 天然 应用

C. 无比 运用

D. 无穷 利用

53. “苟日新，日日新，又日新。”中华传统文化本身是亘古常新的，这是其\_\_\_\_\_五千年而不曾断裂的秘诀所在，在新的背景时代下，要\_\_\_\_\_传统文化，就要让传统文化更深的进入我们的生活，\_\_\_\_\_为生活的一部分，这就是最好的传承之道。

依次填入画横线处最恰当的一项是（ ）

A. 延续 宣扬 转化

B. 传承 传播 类化

C. 历经 继承 深化

D. 绵延 弘扬 内化

54. 今年的竞赛单元依旧气氛激烈，\_\_\_\_\_，这几年的纪录片有一个明显的变化，就是镜头越来越深入人物内心，\_\_\_\_\_被拍摄对象的生活情绪，传达他们的孤独、挣扎和纠结，甚至达到了剧情片的效果，就探索这个时代人们的内心语言，这些纪录片取得的成就，是电影院里放映的商业电影所\_\_\_\_\_的。

依次填入画横线处最恰当的一项是（ ）

A. 如火如荼 描写 自叹不如

B. 强手如林 追踪 望尘莫及

C. 短兵相接 揭露 望而却步

D. 刀光剑影 刻画 无法比拟

55. 劳动不仅\_\_\_\_\_着我们的生活，而且\_\_\_\_\_着我们的灵魂；不仅创造着财富，而且\_\_\_\_\_着人类的文明。

依次填入画横线处最恰当的一项是（ ）

A. 滋养 铸造 积淀

- B. 滋润 锻造 积攒
- C. 滋养 锻造 积攒
- D. 滋润 铸造 积淀

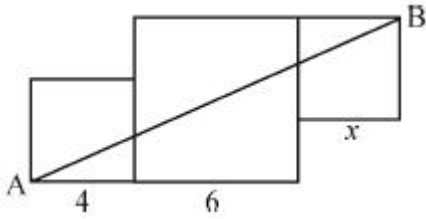
### 第三部分 数量关系

一、数字推理。给出一个数列，缺少其中一项，要求你仔细观察数列的排列规律，从四个选项中，选择最合适的一项，使之符合原数列的排列规律。

56. 3, 9, 17, 27, 39, ( )  
 A. 48    B. 53    C. 56    D. 59
57. 137, 140, 149, 176, 257, ( )  
 A. 300    B. 350    C. 400    D. 500
58.  $\frac{1}{3}, \frac{2}{3}, 2, 10, 70, ( )$   
 A. 770    B. 723    C. 760    D. 1400
59. -12, -7, 2, 19, 52, ( )  
 A. 62    B. 77    C. 97    D. 117
60.  $\sqrt{42}, 3\sqrt{5}, 4\sqrt{3}, 3\sqrt{6}, 6\sqrt{2}, ( )$   
 A. 12    B.  $2\sqrt{35}$     C.  $2\sqrt{37}$     D. 144

二、数学运算。通过运算，选择最合适的一项。

61. 已知 A、B 两地相距 600 千米。甲、乙两车同时从 A、B 两地相向而行，3 小时相遇。若甲的速度是乙的 1.5 倍，则甲的速度是 ( )  
 A. 80 千米/小时    B. 90 千米/小时    C. 100 千米/小时    D. 120 千米/小时
62. 某班有 38 名学生，一次数学测验共有两道题，答对第一题的有 26 人，答对第二题的有 24 人，两题都答对的有 17 人，则两题都答错的人数是 ( )  
 A. 3    B. 5    C. 6    D. 7
63. 小王以每股 10 元的相同价格买入 A 和 B 两只股票共 1000 股。此后 A 股先跌 5% 再涨 5%，B 股票先涨 5% 再跌 5%。若在此期间小王没有再买卖过这两只股票，则现在这 1000 股股票的市值是 ( )  
 A. 10250    B. 9975    C. 10000    D. 9750
64. 下图是由三个边长分别为 4、6、x 的正方形所组成的图形，直线 AB 将它分成面积相等的两部分，则 x 的值是 ( )



- A. 3 或 5    B. 2 或 4    C. 1 或 3    D. 1 或 6

65. 某项工程由工作效率相同的甲、乙两工程队承担。若甲、乙两队合做，工期可提前 5 天；若两队先合做 6 天，余下的由甲队独做，恰好也能按工期完成，则该工程的工期是（ ）

- A. 14 天    B. 15 天    C. 16 天    D. 18 天

#### 第四部分 判断推理

一、类比推理。本部分共 10 题，包括三种类型的题目。

（一）先给出一组有某种关系的词或词组，请你从四个选项中选出正确的一项，使其关系与题干给出的词或词组的关系最为相似。

66. 播种：庄稼

- A. 烹饪：美食    B. 填写：表格  
C. 品尝：绿茶    D. 复印：文章

67. 欧元：美元

- A. 公斤：公里    B. 小说：散文  
C. 公里：小时    D. 阴性：阳性

68. 消除：障碍

- A. 交流：合作    B. 解决：问题  
C. 制度：创新    D. 改革：开放

69. 纪念：忘却

- A. 创业：就业    B. 传播：引导  
C. 挖掘：埋没    D. 救援：灾难

70. 火车：轨道：行驶

- A. 电脑：键盘：上网    B. 相机：镜头：拍照  
C. 飞机：机场：飞行    D. 油轮：江海：航行

71. 青奥会：亚运会：运动员

- A. 展销会：拍卖会：文物    B. 校友会：同乡会：同学  
C. 座谈会：听证会：专家    D. 教代会：职代会：代表

（二）请从四个选项中选出正确的一项，使得该项的两个词或词组依次代入题干的括号中，能够

最大限度地满足题干所表达的类比关系。

72. 喜乐之于 ( ) 相当于 ( ) 之于 美德

- A. 快乐 伦理
- B. 情绪 诚信
- C. 后悔 丑恶
- D. 健康 心理

73. 暂缺

(三) 请从四个选项中选出正确的一项, 使其特征或规律与题干给出的一串符号的特征或规律最为相似。

74. @ \$ @ && @ \$

- A. \$ @ \$ && \$ @
- B. & \$ & @ @ & @
- C. @ && \$ \$ @ @
- D. @ \$ @ @ && \$

75. 嘀 愕 嘀 愕 微 微 滴 愕

- A. 嘀 微 嘀 微 嘀 愕 愕 滴
- B. 愕 嘀 愕 嘀 微 微 愕 滴
- C. 嘀 嘀 愕 微 愕 微 微 滴
- D. 滴 微 滴 微 愕 愕 嘀 微

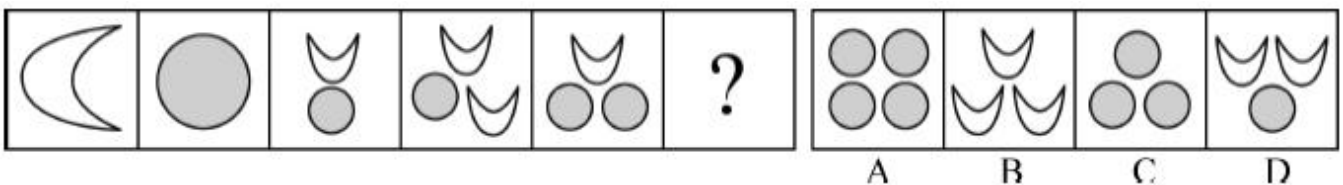
**二、图形推理。本部分共 10 题, 包括三种类型的题目。**

(一) 每道题在左边的题干中给出一套图形, 其中包括五个图, 这五个图呈现一定的规律性。在右边给出一套图形, 其中有四个图, 从中选出唯一的一项作为保持左边五个图规律性的第六个图。

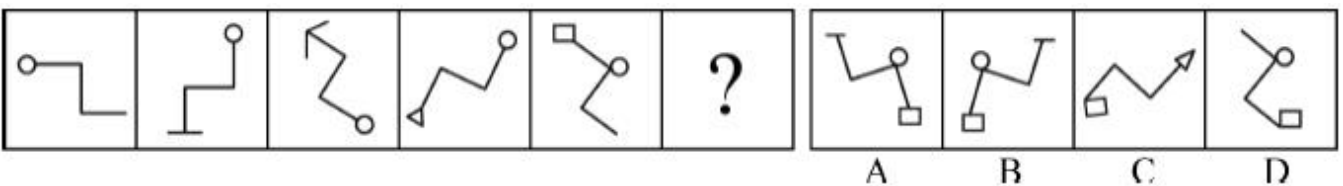
76.




77.



78.



79.




(二) 右边四个图形中，只有一个是 由上面的四个图形拼合（只能通过上、下、左、右平移）而成的，请把它找出来。

80.



81.

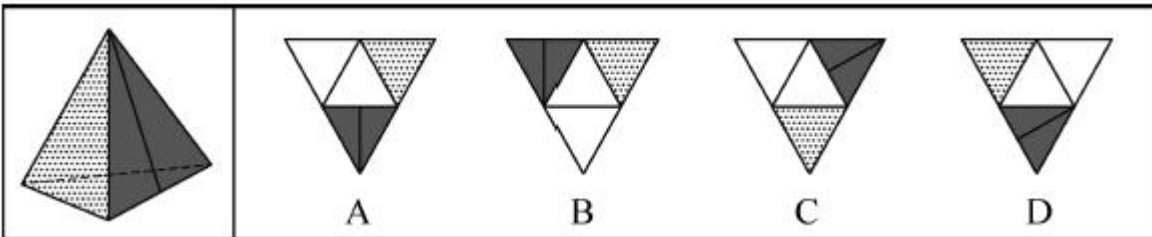


82.

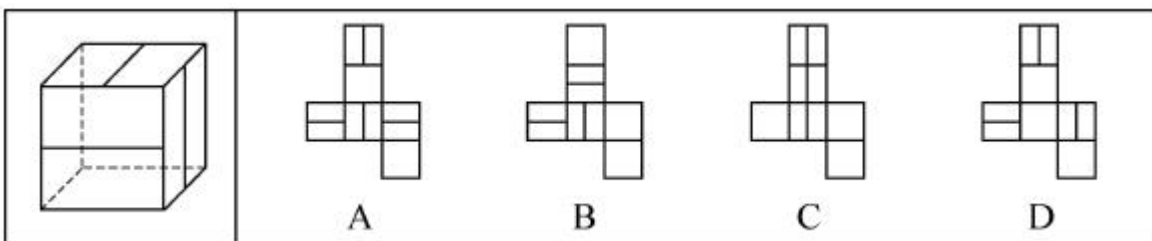


(三) 所给图形可以由下列哪项外表面展开图折叠而成？请把它找出来。

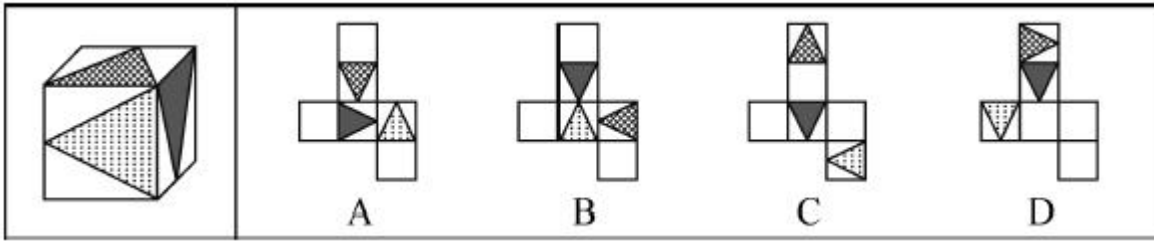
83.



84.



85.



三、逻辑判断。每道题给出一段陈述，假设这段陈述是正确的、不容置疑的。请你根据这段陈述，选择一个答案。注意：正确的答案不需要任何附加说明即可以根据陈述必然推出。

86. 小王不是摄影师，但小王所认识的人都是摄影师，而摄影师都喜欢旅行，因为只有在旅行中才能遇到最美的风景，小王的朋友小张通过旅行与小王一起认识了小李。

根据以上陈述，可以得出以下哪项（ ）

- A. 小王喜欢旅行
- B. 小李喜欢旅行
- C. 小王不喜欢旅行
- D. 小李不喜欢旅行

87. 研究人员为了验证一种长寿新药的效果，用两组小白兔进行了试验。他们对无差别的两组小白兔注射了新药，然后将其中一组关在笼子中饲养，另一组放在自然环境中饲养。结果发现，自然环境中饲养的小白兔的平均寿命比笼子中饲养的小白兔延长了 $\frac{1}{10}$ 。研究人员由此认为，轻松的环境有利于发挥新药的功能。

以下哪项最有可能是研究人员得出结论的假设（ ）

- A. 关在笼子中的小白兔生活得不愉快
- B. 注射了新药之后的小白兔生活得更轻松
- C. 自然环境中饲养的小白兔生活得更轻松
- D. 新药功能的发挥和实验对象的生活环境密切相关

88. 乡间公路上发生一起车祸，肇事司机是位女性，据这位女司机介绍，当时她发现路边有一家餐馆，准备停车用餐，误将油门当刹车，汽车径直向前撞向路边车辆，连撞两车后方才停下，万幸的是车上乘客仅受轻伤。有目击者对这起车祸作出如下评论，女司机更容易出车祸。

以下哪项如果为真，最能质疑上述评论（ ）

- A. 有的男司机开车时比较敏捷和果断，很少出车祸
- B. 有的女司机开车时比较细心和冷静，很少出车祸
- C. 肇事司机已有 8 年驾龄，技术娴熟，以前从未出过车祸
- D. 女司机各有不同，对肇事女司机不能轻率概括、以点概面

89. 在某公司新招聘的 100 名大学应届毕业生（不含专科）中，男性 42 名，女性 58 名；研究生

的比例超过了本科生，计算机类毕业生人数多于文史类毕业生，除了计算机类和文史类专业外，还有其他专业毕业的学生。

根据以上陈述，关于上述 100 名大学毕业生，可以得出以下哪项（ ）

- A. 计算机类研究生人数多于文史类本科生
- B. 女性计算机类毕业生人数多于男性文史类本科生
- C. 女性研究生人数多于男性本科生
- D. 计算机类研究生人数多于男性本科生

90. 城市是一个生命体，一座历史文化名城，她的寿命长达千百年，印证她寿命的年轮也定会有千百条。作为城市年轮的历史文化遗产是绝对不能破坏或丢弃的，破坏或丢弃城市的年轮，就是自毁城市特色。而一座城市只有保持其固有特色，才能拥有核心竞争力。

根据以上陈述，可以得出以下哪项（ ）

- A. 只有保护好历史文化遗产，历史文化名城才能拥有核心竞争力
- B. 只有拥有核心竞争力，一座城市才能保护好其历史文化遗产
- C. 如果保护好历史文化遗产，一座城市就能拥有其核心竞争力
- D. 如果历史文化遗产被破坏或丢弃，历史文化名城就会失去其生命力

91. 甲、乙、丙、丁、戊 5 支足球队进小组单循环比赛。比赛规定，每队胜一场得 3 分，平一场得 1 分，负一场得 0 分；积分前两名出线。比赛结束后发现，没有积分相同的球队，乙队只胜了 3 场，丙队、丁队均只胜了两场。

根据以上陈述，可以得出以下哪项（ ）

- A. 甲队一定出线
- B. 丙队一定出线
- C. 丁队一定没出线
- D. 戊队一定没出线

92. 研究人员比较了过去 3.3 万年以来生活在欧洲的人的骨骼变化情况，发现从 1 万年前的中石器时代到 2000 年前的罗马帝国时期，人类两种腿骨的强度持续下降，但与奔跑行走无关的上臂骨强度则保持稳定。也正是在这一时期，农业开始兴起，人类逐渐向定居的生活方式转变，农业兴起导致现代人的骨骼变轻，但之后两种腿骨的强度几乎没有变化。研究人员由此得出结论，机械化和城市化对骨骼强度的影响并不明显。

以下哪项最可能是研究人员作出结论的假设（ ）

- A. 在过去 3.3 万年间，人类的体重总体变化不大
- B. 从 3.3 万年前至 1 万年间，人类的生活方式没有发生重大的改变



- C. 机械化和城市化发生在农业兴起之后
- D. 人的骨骼变轻会导致其骨骼强度的下降

93~95. 暂缺

四、定义判断。先给你一个概念的定义，然后给出一组典型例证，要求你从中选出最符合题意的一项。注意假设这个定义是正确的、不容置疑的。

96. 条件性承诺：指在社会活动中，一方对另一方作出附带条件的承诺。

下列属于条件性承诺的是（ ）

- A. 小琴考上了重点高中，老爸奖励她到国外旅游一周
- B. 某公司老总答应给考核优秀的员工每人每月加薪 200 元
- C. 陈某对女儿说：“老妈将一如既往支持你报考研究生。”
- D. 小雨为自己立规，不减肥 5 斤，就拒绝参加朋友聚会

97. 趋同感应：指在社会交往过程中，一方能够把握另一方的心理状态，并且能够设身处地体验对方心理。

下列属于趋同感应的是（ ）

- A. 天下谁人不识君
- B. 天生我材必有用
- C. 同是天涯沦落人
- D. 一片冰心在玉壶

98. 职业基因：指与个人所从事工作的特点相匹配的个性特点与气质。

下列不涉及职业基因的是（ ）

- A. 小李在近十年的货车驾驶工作经历中，他的机智灵敏、注意力集中等特点使他成为公司的优秀驾驶员
- B. 做事一向细致、认真的小张，对自己从事财务工作感到很满意
- C. 小马头脑灵活、善于交际，在公司销售部工作期间，其业务量多年名列前茅
- D. 以优异成绩毕业于知名大学的马林博士，进入科研机构后很快成为该机构的业务骨干

99. 同质性群体：指经过较长时间后形成的具有某种共同的文化或性格特征的社会群体。

下列不属于同质性群体的是（ ）

- A. 票友
- B. 同乡
- C. 微商
- D. 旅客

100. 众包：指公司或机构把过去通常由员工承担的工作任务，交由非特定的社会公众完成的做法。

下列不属于众包的是（ ）

- A. 某玩具公司一直鼓励和赞助用户参与公司设计工作，从机器人操纵系统到积木套装产品，都收

到了比较理想的效果

B. 某洗涤用品公司经常把自己的研发项目，发布在各大网站上，征集解决方案，并给予一定的奖励承诺

C. 近三年来，某房地产公司将所有的电脑、网络及外设的日常维护工作，全部交给某电脑公司

D. 某美术馆请参观者为馆内展品撰写讲解说明，选出其中的一部分制成标签，一同展出

101. 安全性思维：指经过观察后，对当前事物或事件的发展作出对自己不利的预测，并做好防备。

下列属于安全性思维的是（ ）

A. 小李从小体质虚弱，三天两头感冒，坚持了 10 年冬泳后，现在已经很少生病了

B. 公司经营越来越难，小陈觉得肯定会裁员，悄悄到人才市场投递了几份简历

C. 公共汽车上来了一个驼背老人，小王怕他跌倒受伤，便把自己的座位让给了老人

D. 这两天气温骤降，老张要到北方出差，妻子特意往他的行李箱里塞了几件厚衣服

102. 自然淘汰育种法：指在良种筛选过程中，减少人为干预，尽量通过被筛选对象的自然生长，确定所需良种的育种方法。

下列属于自然淘汰育种法的是（ ）

A. 甲鱼养殖场为了选育出抗病性强的种鱼，在甲鱼接连死亡的情况下，没有使用任何药物，存活到最后的则作为种鱼

B. 锦鲤养殖户从幼鱼开始分拣最有经济价值的鱼苗，经过三次人工选鱼后，最终只有大约 10% 的幼鱼成了鱼苗

C. 石斛养殖户爬上人迹罕至的悬崖峭壁采集野生石斛，挑选其中的一部分作为种苗，精心培育出了多个新品种

D. 生长在山坡上的某种植物，有的长势非常茂盛，有的则弱小枯黄，泾渭分明，这正是“物竞天择”的形象说明

103. 路怒症：指机动车驾驶者在行车过程中因焦躁、愤怒情绪而产生的攻击性行为。

下列不属于路怒症的是（ ）

A. 在路口等红灯时，小张感觉汽车被碰了一下，下车一看，果然是后车刹车不及时追尾了，小张猛踢后车车轮，大声责怪其司机并且索要赔偿

B. 妻子开车送老陈去上班，一辆小汽车突然窜到了面前，险些撞到他的车，老陈下车拦住那辆车，把司机痛斥一顿

C. 小李开了 8 年车，技术高超，每次被人超车，都忍不住狂踩油门飚上一把，直到反超并羞辱对方一番才罢休

D. 小王正在赶路，旁边车子中突然飞出一个纸团落在他的挡风玻璃上，小王十分生气，他猛按喇叭

叭，嘴里骂个不停

104. 公共信息资源：指社会公共领域中由特定管理机构依法管理，面向全体社会公众提供信息服务的各种数据系统，具有公共性、广泛性、基础性和公益性等特点。

下列属于公共信息资源的是（ ）

- A. 公安部门为了核查居民身份或侦破案件所建立的公安部信息共享系统
- B. 银行为了审核贷款申请、开展各种金融业务而开发的客户个人诚信档案系统
- C. 高校教务部门为提高教学管理效率而开发的学生选课、评课、成绩管理系统
- D. 国家气象部门建立的气象信息发布系统，如天气预报、地质灾害预警系统等

105. 以房养老：指老人将自己的产权房抵押给金融机构，按约定条件定期领取养老金并获得相应服务的养老方式。老人去世后，金融机构可以按约定处置房产，偿付已经支出的各项费用。

下列属于以房养老的是（ ）

- A. 最近，老李夫妇把卖房子的钱存进银行，一起住进了附近的老年公寓，每月的存款利息足够支付那里的各种费用
- B. 年逾古稀的张先生夫妇与银行签订了协议，生前，他们每月从银行领取 13000 元养老金；死后，他们的产权房由银行处置
- C. 赵某在一次车祸中落下重度残疾，他与典当行的远房侄子签了一份协议，由侄子照顾他的日常起居，自己名下的房子将来过户给侄子
- D. 老孙退休后卖掉市中心的大房子，买了一套二手小房住，每月的退休金加上卖房款利息，夫妻俩的日子过得很是自在惬意

106~110. 暂缺

## 第五部分 资料分析

下列给出的文字、表格、图形资料均有五个问题要你回答，你应根据资料提供的信息进行分析、计算、处理，然后从备选答案中选择一个最恰当的答案。

一、根据以下资料，回答 111~115 题。

2015 年 5 月，国家统计局调查队在江苏省某市开展了农村养老现状专项调研。受访老人中 60~69 岁的占 45.8%，70~79 岁的占 38.1%，80 岁及其以上的占 16.1%。受访老人中有一个子女的占 14.1%，有两个子女的占 37.3%，无子女的占 3.6%。受访老人中与配偶同住的占 46.2%，与未婚子女同住的占 2.8%，与某个已婚子女同住的占 31.3%，在子女家轮流住的占 4.0%，独居的占 15.7%。64.3% 的受访老人为男性。从不同住子女探望老人的频率看，10.7% 的受访老人表示每天来探望，26.5% 的表示每周来探望，20.5% 的表示每月来探望，其余的表示子女遇事或根据要求来探望。

调查显示，看电视（82.7%）、串门聊天（70.3%）、打牌（34.9%）、散步（29.7%）、听广播（19.3%）

和读书看报（14.9%）是农村老人的主要闲暇活动。当问及“你想不想参加集体活动”时，20.9%的受访老人表示“想参加”，44.6%的老人表示“可参加可不参加”，还有34.5%的老人表示“不想参加”。关于受访老人对当前生活状态的满意度，从年龄层看，60~69岁、70~79岁，80岁及其以上的老人对当前生活状态的满意度分别为80.0%、79.1%、76.7%；从居住状态看，与子女同住、与配偶同住、独居的老人对当前生活状态的满意度分别为80.6%、80.0%、76.1%；从与村委会互动的频率看，经常互动、偶尔互动、基本不互动的老人对当前生活状态的满意度分别为82.4%、79.2%、76.7%。

111. 受访老人中有三个及以上子女的占比为（ ）

- A. 44.0%
- B. 45.0%
- C. 46.0%
- D. 47.0%

112. 设与村委会经常互动、偶尔互动、基本不互动的受访老人对当前生活状态的满意度分别为A、B、C，则有（ ）

- A.  $A < B < C$
- B.  $B < A < C$
- C.  $C < B < A$
- D.  $C < A < B$

113. 从不同住子女探望老人的频率看，占全体受访老人比重最大的是（ ）

- A. 子女每月来探望的老人群体
- B. 子女每周来探望的老人群体
- C. 子女每天来探望的老人群体
- D. 子女遇事或根据要求来探望的老人群体

114. 从年龄层看，受访老人对当前生活状态的平均满意度为（ ）

- A. 79.1%
- B. 78.6%
- C. 76.7%
- D. 80.0%

115. 下列判断正确的是（ ）

- A. 受访老人中喜欢读书看报的多于喜欢打牌的
- B. 在子女家轮流住的受访老人占15.7%

- C. 喜欢看电视的受访老人都不喜欢听广播
- D. 受访老人中女性占 35.7%

二、根据以下资料，回答 116~120 题。

表 2014 年全国农民工参加“五险一金”情况

单位：%

		工伤保险		医疗保险		养老保险		失业保险		生育保险		住房公积金	
		参保率	比上年提高	参保率	比上年提高	参保率	比上年提高	参保率	比上年提高	参保率	比上年提高	缴纳率	比上年提高
地区	东部	29.8	1.0	20.4	0.1	20.0	0.4	12.4	0.7	9.1	0.4	6.0	0.4
	中部	17.8	1.6	11.8	1.2	10.7	0.7	6.9	1.0	4.9	0.7	4.7	0.6
	西部	21.9	0.4	13.6	0.8	11.4	0.7	7.7	1.1	5.8	0.8	4.4	0.7
行业	制造业	34.2	1.4	22.1	0.4	21.4	0.5	13.1	0.9	9.3	0.5	5.3	0.3
	建筑业	14.9	0.5	5.4	0.2	3.9	0.2	2.1	0.1	1.3	0.0	0.9	0.0
	批发和零售业	19.2	2.2	15.0	0.8	14.4	0.9	9.9	1.0	7.8	0.8	3.5	-0.1
	交通运输、仓储和邮政业	27.8	2.3	19.2	1.8	17.6	2.0	12.8	2.3	9.2	1.6	8.0	1.8
	住宿和餐饮业	17.2	0.1	10.8	-1.1	10.0	-0.6	5.4	-1.2	4.0	0.1	2.6	0.1
	居民服务、修理和其他服务业	16.3	0.4	12.1	0.5	11.8	0.5	6.6	0.4	5.2	0.4	3.1	0.9

116. 2013 年东部地区农民工工伤保险参保率比中部地区高 ( )
- A. 12.6 个百分点
  - B. 12.0 个百分点
  - C. 11.7 个百分点
  - D. 10.0 个百分点
117. 2014 年农民工住宿和餐饮业的医疗保险参保人数是失业保险参保人数的 ( )
- A. 2 倍
  - B. 1.5 倍
  - C. 0.8 倍
  - D. 0.5 倍
118. 下列行业中，2014 年农民工失业保险参保率比上年提高最少的是 ( )
- A. 建筑业
  - B. 住宿和餐饮业
  - C. 制造业
  - D. 批发和零售业

119. 若以  $V_{工}$ 、 $V_{失}$ 、 $V_{医}$ 、 $V_{养}$ 、 $V_{生}$  分别表示 2014 年全国农民工“工伤保险”“失业保险”“医疗保险”“养老保险”“生育保险”参保率，则有（ ）

- A.  $V_{工} > V_{失} > V_{养}$
- B.  $V_{医} > V_{失} > V_{养}$
- C.  $V_{工} > V_{生} > V_{养}$
- D.  $V_{工} > V_{养} > V_{生}$

120. 下列判断正确的是（ ）

- A. 2014 年制造业农民工养老保险参保率是建筑业的 5 倍以上
- B. 2013 年交通运输、仓储和邮政业农民工失业保险参保率是 10.5%
- C. 2014 年西部地区农民工各项保险的参保率提升幅度均大于东部地区
- D. 2014 年农民工住房公积金缴纳率增幅最大的行业是居民服务、修理和其他服务业

121~130. 暂缺

2016 年江苏省录用公务员考试《行政职业能力测验》真题卷（C 类）参考答案与解析

1. 【解析】D。《“十三五”规划建议》提出了“十三五”时期经济社会发展的基本理念，即实现“十三五”时期的发展目标，必须牢固树立“创新、协调、绿色、开放、共享”的发展理念。因此 D 项正确。

2. 【解析】C。A 项错误，提升第三产业在产业结构中的比重，而非“农业”。B 项错误，一号文件将激发农业的科技创新，以科技带动农业现代化的发展，而非“以服务业带动”。D 项错误，一号文件将带动农村基础设施建设，利用社会资本加快新农村建设，而非“依靠社会资本”。C 项正确。

3. 【解析】A。习近平总书记强调要增强问题意识，坚持问题导向，就是要承认问题进而解决问题，问题是事物矛盾的表现形式，即承认矛盾的普遍性和客观性。认识矛盾，进而解决矛盾，才能推动事物的发展，说明矛盾是事物发展的源泉和动力。

4. 【解析】A。焦大是贾府的奴仆，以焦大的经济能力和社会地位来说，无论是从精神需求还是从物质需求方面，择偶观念势必只能是青睐吃苦耐劳且健壮的女子。以他的认知不可能理解林黛玉广阔的精神世界。这句话反映出不同社会阶级的人不同的审美观、世界观和爱情观，体现的哲理是社会存在决定社会意识。因此 A 项正确。

5. 【解析】A。A 项出自王安石的《元日》，对应的是春节。因此 A 项错误，当选。B 项出自王维的《九月九日忆山东兄弟》，重阳节有登高、插茱萸的习俗。C 项出自辛弃疾的《青玉案·元夕》，

对应的是元宵节。D项出自秦观的《鹊桥仙·纤云弄巧》，对应的是七夕节。

6. 【解析】B。《中国制造 2025》涉及五大工程、十大产业领域。所以 B 项《中国制造 2025》的覆盖范围包括国民经济门类中的所有产业说法错误。A、C、D 三项表述均正确。

7. 【解析】A。题干中强调“需求和供给的自由作用”，即主要依靠市场去调节，政府不作干涉。A 项，在供给短缺而需求不减少的情况下，提高销售价格，居民自然会减少对天然气的需求，转而寻找其他替代能源，从而缓解天然气供给短缺问题。B、C、D 三项均为政府的行政干涉，而非市场的自由运作，与题干不符，均排除。因此 A 项当选。

8. 【解析】C。供给侧结构性改革，是从提高供给质量出发，用改革的办法推进结构调整，矫正要素配置扭曲，扩大有效供给，提高供给结构对需求变化的适应性和灵活性，提高全要素生产率，更好地满足广大人民群众的需要，促进经济社会持续健康发展。综上可知 C 项发改委取消行政审批事项是从源头供给处进行改革，符合定义。因此 C 项当选。

9. 【解析】C。镇南关大捷是 1885 年 3 月，在中法战争中，清军在广西镇南关（今友谊关）大败法国侵略者，取得重大胜利的著名战役。因此 C 项当选。A 项发生在 1937 年 9 月的山西大同，中共八路军配合友军阻挡日军，取得胜利。B 项起始时间为 1939 年 12 月 18 日~1940 年 1 月 11 日，是桂南会战国民革命军投入最强规模部队的抗日战役。D 项发生在 1938 年山东台儿庄附近，它是抗日战争以来中国人民取得的最大胜利。

10. 【解析】A。1956 年，浙江国风昆苏剧团根据传奇《双熊记》改编的《十五贯》登台，周恩来在观看了演出后说：“你们浙江做了一件好事，一出戏救活了一个剧种。《十五贯》有丰富的人民性和相当高的艺术性。”从那时起各地陆续成立了昆剧团，形成了昆曲舞台的大致格局，这个格局一直维持至今。因此 A 项当选。

11. 【解析】C。高铁列车行驶时会产生巨大的空气压力波，它一旦进入车内，会让桌上的物品一片狼藉。乘坐者根本无法忍受这种空气压强差，轻则使乘客耳膜产生压迫感，重则会使乘客感到头晕恶心，严重时甚至造成耳膜破裂。因此 C 项当选。

12. 【解析】D。A 项的原理是车胎内的空气热胀冷缩。B 项的原理是高温空气遇到低温的冷饮产生的液化现象。C 项的原理是瓷砖的导热性比棉花的强。D 项的原理是热水瓶的内胆镀银，形成银镜反应，减少热量通过热辐射散失。因此 D 项正确。

13. 【解析】B。黑龙江位于中国东北，流经中国和俄罗斯。澜沧江是湄公河在中国的名称，位于湄公河的上游，湄公河流经老挝、缅甸、泰国、柬埔寨和越南。图们江流经中国吉林、俄罗斯、朝鲜。雅鲁藏布江流经中国、印度、孟加拉国。澜沧江流经国家最多，因此 B 项当选。

14. 【解析】A。馕是维吾尔族的特色饮食，不是傣族的。其他选项均正确。

15. 【解析】B。A 项，法院结案真正地解决了纠纷，化解了矛盾，体现司法解决的根本性。C 项，

对未经起诉的事情法院不予受理的诉讼原则，体现司法活动的被动性。D项，“一事不再理原则”就是对判决、裁定已经发生法律效力案件的被告人，不得再次起诉和审理，体现了司法程序的终结性。B项说明了“有告必理”是为了保障诉权和程序公正。

16. 【解析】C。《村民委员会组织法》第29条规定，村民委员会应当实行少数服从多数的民主决策机制和公开透明的原则，建立健全各种工作制度，可知A项错误。《村民委员会组织法》第30条第3款规定，前款规定事项中，一般事项至少每季度公布一次；集体财务往来较多的，财务收支情况应当每月公布一次；涉及村民利益的重大事项应当随时公布，可知B项错误。《村民委员会组织法》第7条规定，村民委员会根据需要设人民调解、治安保卫、公共卫生与计划生育等委员会……可知C项正确。《村民委员会组织法》第2条第3款规定，村民委员会向村民会议、村民代表会议负责并报告工作，可知D项错误。

17. 【解析】C。相邻关系，是指两个或两个以上相互毗邻不动产的所有人或使用人，在行使占有、使用、收益、处分权利时发生的权利义务关系。

18~20. 暂缺

21. 【解析】B。文段属于总分结构，强调的总观点是：联产承包责任制被纳入到现代产业体系之后给农村经济、农村劳动力和农村社会关系带来的深刻变化，B项符合，当选。

22. 【解析】B。文段中把“道路”比喻成“河流”，把“高楼”比喻成“峡谷”，道路在高楼“峡谷”中蜿蜒流淌，只有在高处俯瞰才能呈现此景。另外，古人登上依水而建的楼阁，所观之景与此相似，其视线是由高处往下的。因此B项当选。

23. 【解析】A。先确定首句，观察选项，有①或②两种情况，①中“我们也能看到……是法官……”，说明在①之前对“法官”有其他论述。②是总括句，其他几句都是围绕此句展开的论述。因此排除B、C两项。③④中均提到了“社会生活”，④中指出“法律语言无法涵盖与描述全部的社会生活”，③中提出解决办法，“法律只有……才能实现对社会生活的有效规范”，因此④在③之前，排除D项。因此A项当选。

24. 【解析】D。A项对应的是文段开头。B项对应的是文段末尾。C项对应的是“满足高密度，高成本，高人力的现代快递工作”。D项无中生有。

25. 【解析】D。文段第一句“电影是否适合3D制作，主要取决于影片的内容”为主旨句，然后列举了适合或不适合3D特效的影片类型，D项符合文段内容。

26. 【解析】C。A、B两项对应的是“推荐只是根据目前的证据所能作出的合理判断”。D项对应的是“不同的文献研究的对象、方式和考察的健康指标不同，就可能得出不同的结论”。C项无中生有。

27. 【解析】A。根据主体排除法，文段的主体是公民科学素质，因此排除C、D两项。文段强调



的重点是公民科学素质的提高决定着国家核心竞争力的高低。因此 A 项当选。

28~35. 暂缺

36~40. 暂缺

41. 【解析】D。第一空，由“盯着名利干事”可知，“急功近利”最恰当，且两者也都包含关键字“利”。第二空，由“不闻掌声”可知，“心无旁骛”最恰当。因此 D 项当选。

42. 【解析】D。根据文段中的提示性信息，“城镇化大大降低了农业人口比重”，说明农业生产所经历的变化与进城务工农民的交往社会化这一事实是相“符合”或“契合”的，排除 B、C 两项。“激励”侧重的是物质或精神方面的事物，置于第二空不合适，排除 A 项。D 项当选。

43. 【解析】C。根据文段提示性信息，“法官只能通过解释法律来发展立法”，涉及的内容是法官的权责问题，因此用“权力”。第二空，“完善立法”属于固定搭配。

44. 【解析】A。根据语境，第一空需要填入表示假设的让步关系的连词，排除 B、D 两项。“这种留在心间的东西……的影响，就是熏陶”，说明不自觉的就受到了影响，故用“潜移默化”。A 项当选。

45. 【解析】C。最后一空需填入的是产生整体大于部分之和的现象，因此用“效应”，C 项当选。“效率”侧重于速度，排除 A 项。文段中仅仅是一种客观陈述，没有体现作者的感情倾向，“成果”不符合，排除 D 项。

46. 【解析】D。文段中强调的是“如何配置相对缺乏的教育资源”，故用“均等化”契合文意。

47. 【解析】A。第一空，与“慷慨”搭配，“赐予”最恰当。“分享”“供给”程度不够。“奉献”主要是指为别人默默付出，心甘情愿，不图回报。根据语境信息，第二空需填入和“辜负”表意相同的词语。“轻慢”意为对人不尊重，对人傲慢，能够和后面的“美好情意”搭配。A 项当选。

48. 【解析】D。根据语境信息，最后一句应是“处于社会信息化进程中的个人也包含在内”，因此用“概莫能外”。验证第一空，“显著标志”搭配恰当，符合语义。D 项当选。

49. 【解析】C。根据语境信息，数据采集及其分析对于金融学研究的重要性是每个个体都明白的，故用“不言而喻”。验证第一空，带入后语句通顺，符合语义。

50. 【解析】B。第一空，“不堪重负”“顾此失彼”与“网络热词的更替速度”搭配不当，排除 C、D 两项。第二空，“宿愿”指平素的愿望，一向怀着的愿望，与题意不符；所谓“宿命”是指命运的归宿，是人们无法摆脱的必然趋势，符合题意。因此 B 项当选。

51. 【解析】B。第一空，根据语境，书法艺术是以汉字为传播途径的一种形式，故用“载体”。验证第二空，语句通顺，符合语义。因此 B 项当选。

52. 【解析】B。根据语境信息，“无比”“无穷”说法绝对，排除 C、D 两项。第二空考查固定

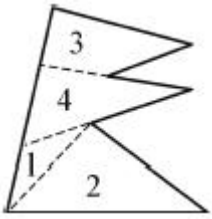


61. 【解析】D。设乙的速度为  $2x$ ，甲的速度为  $3x$ ，列方程得  $600 = (2x+3x) \times 3$ ，解得  $x=40$ ，甲的速度  $3x=120$ （千米/小时）。因此 D 项当选。
62. 【解析】B。根据容斥原理的公式：在两个集合的情况下：满足 A 的个数+满足 B 的个数-两者都满足的个数=总个数-两者都不满足的个数。因此  $26+24-17=38-x$ ，解得  $x=5$ 。两题都答错的人是 5 个，因此 B 项当选。
63. 【解析】B。1000 股股票的市值是： $10 \times 1000 \times (1-5\%) \times (1+5\%) = 10000 \times (1-5\%+5\%-5\% \times 5\%) = 9975$ （元），因此 B 项当选。
64. 【解析】B。以 AB 为对角线将图形补成长方形，也就是要缺失的两部分面积相同， $2 \times 4 = x \times (6-x)$ ，解得  $x=2$  或 4。B 项当选。
65. 【解析】C。设甲、乙二人每天完成的工程量都为 1，工程工期为  $x$ ，则  $2 \times (x-5) = 2 \times 6 + (x-6)$ ，解得  $x=16$ 。C 项当选。
66. 【解析】A。考查目的关系。播种的目的是为了收获庄稼，烹饪的目的是为了得到美食。
67. 【解析】B。考查并列关系。欧元、美元都是一种货币，小说、散文都是一种文体。A、C 两项的公斤、公里、小时是不同类型的计量单位。
68. 【解析】B。考查语法结构，动宾关系。消除障碍，解决问题。
69. 【解析】C。考查反义词关系，纪念和忘却为反义关系，挖掘和埋没也是反义关系。
70. 【解析】D。遣词造句法。火车在轨道上行驶，油轮在江海上航行。C 项，飞机在天空飞行而不是机场。
71. 【解析】D。考查对应关系。青奥会和亚运会必须要有运动员参加，教代会和职代会必须要有代表参加。
72. 【解析】B。考查种属关系，喜乐是一种情绪，诚信是一种美德。
73. 暂缺
74. 【解析】A。考查字符顺序。第一、三、六位置上符号相同，二、七位置上符号相同，四、五位置上符号相同。
75. 【解析】D。考查字符顺序。第一、三位置上汉字相同，二、四、八位置上汉字相同，五、六位置上汉字相同。
76. 【解析】B。考查图片信息类，图中都是一个大人和一个小孩。
77. 【解析】C。考查元素换算，一个圆等于两个月亮，换算出的结果是 1、2、3、4、5、6 个月亮。
78. 【解析】B。考查数量和位置。图中线条数依次为 3、4、5、6、7、（8），排除 C、D 两项。各图中三条相连折线的方位均可由前一幅图经过旋转得到，B 项亦可，A 项无法得到。因此，B 项

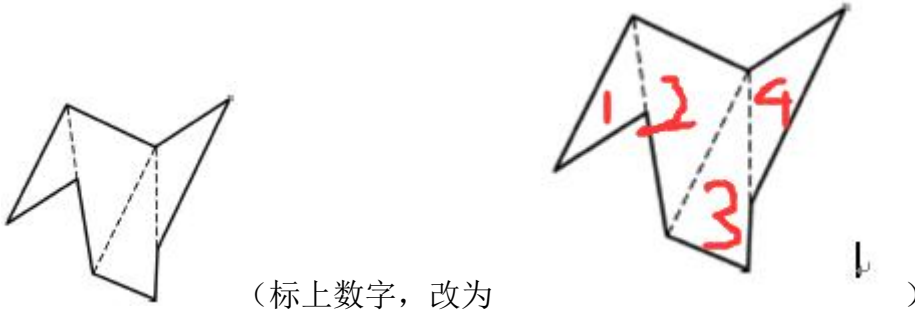
当选。

79. 【解析】B。考查属性类，所有图形都是中心对称图形。

80. 【解析】A。根据特殊角，特殊边（平行边），拼合之后只有A项符合，如下图所示：



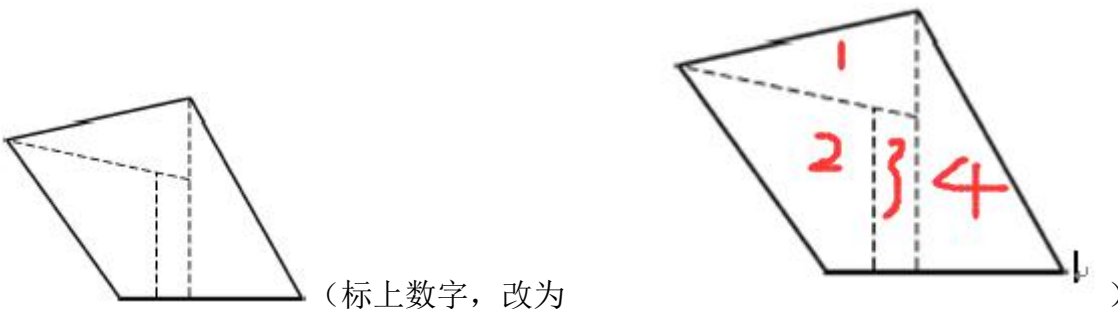
81. 【解析】D。根据特殊角和平行边拼合，只有D项符合，如下图所示：



（标上数字，改为

）

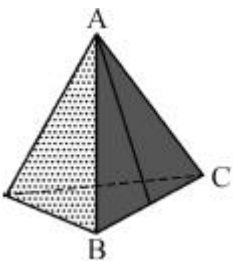
82. 【解析】A。根据平行边、特殊边和特殊角，拼合之后只有A项符合，如下图所示：



（标上数字，改为

）

83. 【解析】C。根据相邻边关系，原图中有垂线的三角形和带点的三角形的公共边为AB（如下图所示），只有C项符合。B、D两项这三角形的公共边为BC，A项为AC。



84. 【解析】B。根据相对面关系，排除A、C、D三项，只有B项符合。

【解析】D。解法一：题干三个面的图形都交于公共顶点，只有D项符合。

解法二：时针法，立方体三个面是“白灰黑”顺时针方向，选项中只有D项是顺时针。

86. 【解析】B。考查翻译推理。最后一句话表明小王认识小李，根据第一句，“小王所认识的人都是摄影师”，所以小李是摄影师。根据第二句，“摄影师都喜欢旅行”，所以小李喜欢旅行。B

项当选。

87. 【解析】C。本题考查前提假设。结论是“轻松的环境有利于发挥新药的功能”，通过将两组小白兔进行对比，一组在笼子，一组在自然环境中，前提必须是承认自然环境中饲养的小白兔生活得轻松，因此C项符合，当选。

88. 【解析】D。论点是“女司机更容易出车祸”。D项指出目击者仅仅根据一起车祸就得出了以偏概全的结论，该论证方式不合理，当选。

89. 【解析】C。由“男性42名，女性58名”可得：女研究生+女本科生>男研究生+男本科生①，由“研究生的比例超过了本科生”可得：女研究生+男研究生>女本科生+男本科生②→女研究生-女本科生>男本科生-男研究生③，由①+③可得，2女研究生>2男本科生，因此女性研究生人数多于男性本科生，C项当选。

90. 【解析】A。本题考查翻译推理。“破坏或丢弃城市的年轮（历史文化遗产），就是自毁城市特色”翻译为：破坏（历史文化遗产）→毁灭特色，“只有保持其固有特色，才能拥有核心竞争力”翻译为：竞争力→保持特色，根据递推规则，得出：破坏（历史文化遗产）→毁灭特色→¬竞争力。因此A项当选。

91. 【解析】D。本题考查翻译推理。五支球队一共进行了十场单循环比赛，乙、丙、丁共取胜七场，因为没有积分相同的球队，所以不能有相同胜场数，丙、丁至少有一局平局的情况，因此甲与戊最多胜两场，戊不会进入前两名，D项当选。

92. 【解析】C。本题考查前提假设。题干论据为：农业兴起之后并未导致腿骨的强度有变化，结论是：机械化和城市化对骨骼强度的影响并不明显，因此前提应是农业兴起与机械化和城市化之间的关系，只有C项符合。

93~95. 暂缺

96. 【解析】B。“条件承诺”的定义要点：①一方对另一方；②附带条件的承诺。A、C两项不符合②，D项不符合①，均排除。因此B项当选。

97. 【解析】C。“趋同感应”的定义强调“一方把握另一方的心理状态，设身处地体验对方心理”。只有C项符合定义，当选。

98. 【解析】D。题干关键词是“与个人所从事工作的特点相匹配的个性特点与气质”，D项马林博士是因为优异成绩，不符合定义，D项当选。

99. 【解析】D。定义关键词是“具有某种共同的文化或性格特征”，D项旅客不具备，当选。

100. 【解析】C。题干关键词是“非特定的社会公众”，C项某电脑公司是特定的公司，当选。

101. 【解析】B。定义的关键要点是“作出对自己不利的预测，做好防备”，A项没有作出预测，C项不是针对自己，D项天气降温并不是对自己不利，而且也是妻子的行为，都不符合定义要点，

均排除。因此 B 项当选。

102. 【解析】A。“自然淘汰育种法”的定义强调“在良种筛选过程中，减少人为干预”，只有 A 项符合定义要点，当选。B、C 两项均有人工干预选种。D 项并没有提到筛选良种。

103. 【解析】B。“路怒症”定义要点为：①机动车驾驶者；②行车过程中；③因焦躁、愤怒产生攻击性的行为。B 项老陈并不是机动车驾驶者，不符合定义要点①。因此 B 项当选。

104. 【解析】D。公共信息资源的定义要点为：①面向全体社会公众；②具有公共性、广泛性、基础性和公益性等特点。因此 D 项当选。

105. 【解析】B。“以房养老”的定义要点为：将自己的产权房抵押给金融机构，定期领取养老金，去世后，金融机构按照约定处置房产。只有 B 项符合定义要点。A、C、D 三项均没有把产权房抵押给金融机构。

106~110. 暂缺

111. 【解析】B。受访老人有一个、两个和无子女的分别占 14.1%、37.3%、3.6%，因此剩下的即为三个和三个以上子女的占比。 $100-14.1-37.3-3.6=45$ ，因此 B 项当选。

112. 【解析】C。直接观察题目最后一句话可知：A 为 82.4%，B 为 79.2%，C 为 76.7%，因此  $C < B < A$ 。

113. 【解析】D。直接从题中比较可以得出：A 项为 20.5%，B 项为 26.5%，C 项为 10.7%，D 项为  $1-20.5\%-26.5\%-10.7\%=42.3\%$ 。

114. 【解析】B。从年龄层来看平均满意度为  $(80.0\%+79.1\%+76.7\%) \div 3=78.6\%$ 。

115. 【解析】D。A 项错误，读书看报 14.9% 小于打牌的 34.9%。B 项错误，轮流住的老人占 4.0%。C 项错误，文中未提及。D 项正确，64.3% 的受访老人为男性，则女性占 35.7%。

116. 【解析】B。所求为  $29.8\% \div (1+1\%) - 17.8\% \div (1+1.6\%) \approx (29.8\% - 17.8\%) \div (1+1\%) = 12\% \div 1.01 \approx 11.9\%$ ，B 项与之最接近，当选。

117. 【解析】A。2014 年农民工住宿和餐饮业医疗保险参保率为 10.8%，失业保险是 5.4%。 $10.8 \div 5.4=2$ （倍）。A 项当选。


118. 【解析】B。A 项建筑业失业保险参保率比上年提高了 0.1 个百分点，B 项住宿和餐饮业比上年下降了 1.2 个百分点，C 项制造业提高了 0.9 个百分点，D 项批发和零售业提高了 1.0 个百分点。因此提高最少的是 B 项住宿和餐饮业。B 项当选。

119. 【解析】D。 $V = (29.8\%+17.8\%+21.9\%) \div 3=69.5\% \div 3$ ， $V = (12.4\%+6.9\%+7.7\%) \div 3=27\% \div 3$ ， $V = (20.4\%+11.8\%+13.6\%) \div 3=45.8\% \div 3$ ， $V = (20.0\%+10.7\%+11.4\%) \div 3=42.1\% \div 3$ ， $V = (9.1\%+4.9\%+5.8\%) \div 3=19.8\% \div 3$ 。 $V > V > V > V > V$ ，因此 D 项正确。

120. 【解析】A。A 项正确，2014 年制造业农民工养老保险参保率为 21.4%，建筑业为 3.9%，是

5 倍以上。B 项错误，2013 年交通运输、仓储和邮政业农民工失业保险参保率为  $12.8\% \div (1+2.3\%) \approx 12.8\% \neq 10.5\%$ 。C 项错误，2014 年工伤保险领域西部地区小于东部地区提升幅度。D 项，2014 年农民工住房公积金缴纳率增幅最大的行业是交通运输、仓储和邮政业，而不是居民服务、修理和其他服务业。因此 A 项当选。

121~130. 暂缺



美好的事情即将发生...

something wonderful is about to happen